



## UZUPEŁNIA ZESPÓŁ NADZORUJĄCY

KOD UCZNIĄ

--	--	--

PESEL

--	--	--	--	--	--	--	--	--	--	--	--	--	--

*miejsce  
na naklejkę  
z kodem*

### BADANIE DIAGNOSTYCZNE W KLASIE TRZECIEJ GIMNAZJUM CZĘŚĆ HUMANISTYCZNA HISTORIA I WIEDZA O SPOŁECZEŃSTWIE

#### Instrukcja dla ucznia

1. Sprawdź, czy zestaw egzaminacyjny zawiera 14 stron i 20 zadań. Ewentualny brak stron lub inne usterki zgłoś nauczycielowi.
2. Czytaj uważnie wszystkie teksty i zadania.
3. Wszystkie zadania rozwiąż długopisem lub piórem.
4. Do niektórych zadań podane są cztery odpowiedzi: A, B, C, D. Tylko jedna z nich jest poprawna. Wybierz ją i zaznacz znakiem **X**, np.:  

<b>X</b>	B.	C.	D.
----------	----	----	----
5. Jeśli się pomylisz, otocz znak **X** kółkiem i zaznacz inną odpowiedź, np.:  

<b>(X)</b>	B.	<b>X</b>	D.
------------	----	----------	----
6. Do niektórych zadań podane są dwie odpowiedzi:  

A.	B.	lub	TAK	NIE
----	----	-----	-----	-----

Tylko jedna z nich jest prawdziwa. Wybierz ją i zaznacz znakiem **X**, np.:  


<b>X</b>	B.	lub	TAK	<del>NIE</del>
----------	----	-----	-----	----------------
7. Pozostałe zadania wykonuj zgodnie z poleceniami. Rozwiązania zadań zapisuj czytelnie i starannie w wyznaczonych miejscach. Pomyłki przekreślaj.
8. Na ostatniej stronie znajduje się **Brudnopis**, z którego możesz skorzystać. Zapisy w brudnopisie nie będą sprawdzane i oceniane.

**Powodzenia!**

**LISTOPAD 2012**

**Czas pracy:  
do 80 minut**

Na podstawie ilustracji wykonaj zadanie 1.



Barbara Osińska, *Sztuka i czas. Od prehistorii do średniowiecza*, Warszawa 2004.

**Zadanie 1.**

**Dokończ zdanie odpowiednim wyrazem z ramki. Wpisz literę A lub B.**

Przedstawiona na ilustracji budowla jest charakterystyczna dla cywilizacji \_\_\_\_\_.

egipskiej	A
-----------	---

greckiej	B
----------	---

**Zadanie 2.**

**Zaznacz poprawną odpowiedź.**

Symbol judaizmu (religii żydowskiej) przedstawia ilustracja



A.



B.

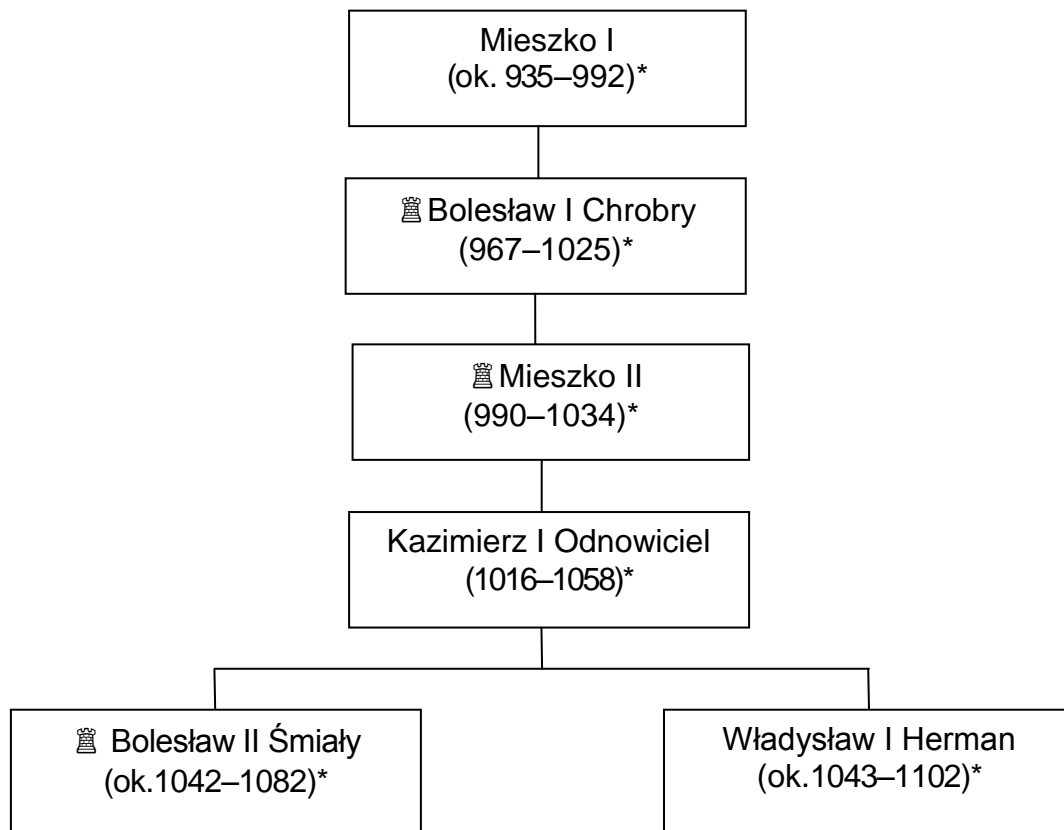


C.



D.

Zapoznaj się z tablicą genealogiczną i wykonaj zadania 3. i 4.



\*lata życia  
 król

Na podstawie: *Encyklopedia PWN w trzech tomach*, Warszawa 1999 r.

### Zadanie 3.

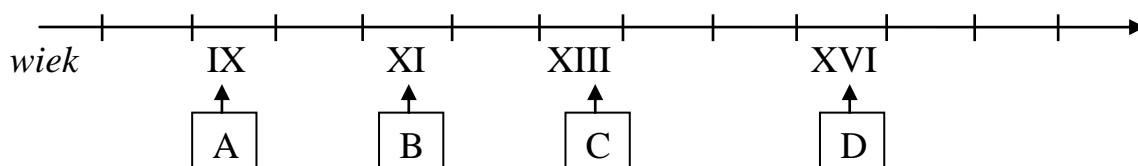
Oceń prawdziwość zdań. Zaznacz TAK lub NIE.

1.	Pierwszym koronowanym władcą Polski był Mieszko II.	TAK	NIE
2.	Młodszy syn Kazimierza Odnowiciela był królem Polski.	TAK	NIE

### Zadanie 4.

Zaznacz poprawną odpowiedź.

Wiek, w którym panował Bolesław II Śmiały został zaznaczony na taśmie chronologicznej literą



Na podstawie ilustracji wykonaj zadanie 5.



fot. Wojciech Kalwat [http://www.wilanow-palac.pl/image.php/4920/57\\_zamosc\\_rynek\\_kamienice\\_ormianskie\\_ratusz.jpg](http://www.wilanow-palac.pl/image.php/4920/57_zamosc_rynek_kamienice_ormianskie_ratusz.jpg)

**Zadanie 5.**

**Dokończ zdanie odpowiednim wyrazem z ramki. Wpisz literę A lub B.**

Budowla przedstawiona na ilustracji jest charakterystyczna dla stylu \_\_\_\_\_.

romańskiego	A
-------------	---

renesansowego	B
---------------	---

**Zadanie 6.**

**Uporządkuj wydarzenia historyczne zgodnie z kolejnością chronologiczną. Wpisz do tabeli odpowiednio literę A lub B, lub C.**

1.	Wydarzenie chronologicznie pierwsze	
2.	Wydarzenie chronologicznie trzecie	

Hołd pruski w Krakowie	A
------------------------	---

Bitwa pod Grunwaldem	B
----------------------	---

Wojna trzynastoletnia	C
-----------------------	---

### Zadanie 7.

#### Zaznacz poprawną odpowiedź.

Pierwsza wyprawa morska dookoła świata odbyła się w epoce

- A. starożytnej.
- B. średniowiecza.
- C. nowożytnej.
- D. współczesnej.

### Przeczytaj tekst i wykonaj zadanie 8.

Przyczyn powstania na Ukrainie w 1648 r. było wiele. Przede wszystkim błędna, bo nieskuteczna, polityka Rzeczypospolitej wobec kozaczyzny. Niewiele mniejsze znaczenie należy przypisać konfliktowi między prawosławiem, za którym opowiadała się kozaczyzna, a grekokatolikami.

Na podstawie: Z. Wójcik, *Wojny kozackie w dawnej Polsce*, Kraków 1989.

### Zadanie 8.

Uzupełnij zdania wyrazami z ramek. Wpisz w każdą lukę odpowiednią literę.

1. Powstanie na Ukrainie miało miejsce w \_\_\_\_ wieku.

XVI	A
-----	---

XVII	B
------	---

2. Główną przyczyną wybuchu powstania była \_\_\_\_ polityka Rzeczypospolitej wobec Kozaków.

nieprawidłowa	C
---------------	---

bezbłędna	D
-----------	---

3. Innym powodem wybuchu powstania był konflikt religijny między grekokatolikami a \_\_\_\_.

katolikami	E
------------	---

prawosławnymi	F
---------------	---


Zapoznaj się z mapą i wykonaj zadania 9. i 10.



Na podstawie: *Testy dla klasy II gimnazjum. Oświecenie*, opr. A. Kowal, Warszawa 2005.

 I rozbiór Polski - 1772 r.

 II rozbiór Polski - 1793 r.

 III rozbiór Polski - 1795 r.

**Zadanie 9.**

Oceń, czy zdania są prawdziwe. Zaznacz TAK lub NIE.

1.	Na mapie literą A oznaczono ziemię zabraną przez Rosję w I rozbiórce Polski.	TAK	NIE
2.	Miasto Lwów po III rozbiórce znalazło się na terenie państwa pruskiego.	TAK	NIE

**Zadanie 10.****Zaznacz poprawną odpowiedź.**

Rzbiory Polski miały miejsce w wieku

- A. XVI
- B. XVII
- C. XVIII
- D. XIX

**Przeczytaj tekst i wykonaj zadanie 11.**

Zaborcy starali się na ziemiach polskich ograniczać rozwój szkół. Stopniowo germanizowali i rusyfikowali system szkolnictwa. Uczniowie nie mogli używać języka polskiego ani mieć żadnych książek wydanych w języku ojczystym.

**Zadanie 11.****Uzupełnij zdania wyrazami z ramek. Wpisz w każdą lukę odpowiednią literę.**

1. Zaborcy zabraniali polskim uczniom czytania książek wydanych w języku \_\_\_\_\_.

francuskim	A
------------	---

polskim	B
---------	---

2. Polskie szkolnictwo było przez zaborców \_\_\_\_\_.

wspierane	C
-----------	---

hamowane	D
----------	---

3. Narzucenie Polakom języka niemieckiego i kultury niemieckiej nazywamy \_\_\_\_\_.

rusyfikacją	E
-------------	---

germanizacją	F
--------------	---

**Zadanie 12.****Zaznacz poprawną odpowiedź.**

Zamordowanie w 1914 r. w Sarajewie następcy tronu Austro-Węgier, arcyksięcia Franciszka Ferdynanda, przyczyniło się do wybuchu

- A. wojny z Napoleonem.
- B. powstania listopadowego.
- C. powstania styczniowego.
- D. I wojny światowej.

**Przeczytaj fragment Konstytucji Rzeczypospolitej Polskiej z 2 kwietnia 1997 r. i wykonaj zadanie 13.**

Art. 8.

1. Konstytucja jest najwyższym prawem Rzeczypospolitej Polskiej.

Art. 9.

Rzeczypospolita Polska przestrzega wiążącego ją prawa międzynarodowego.

Art. 10.

1. Ustrój Rzeczypospolitej Polskiej opiera się na podziale i równowadze władzy ustawodawczej, władzy wykonawczej i władzy sądowniczej.

2. Władzę ustawodawczą sprawują Sejm i Senat, władzę wykonawczą Prezydent Rzeczypospolitej Polskiej i Rada Ministrów, a władzę sądowniczą sądy i trybunały.

**Zadanie 13.**

**Uzupełnij zdania wyrazami z ramek. Wpisz w każdą lukę odpowiednią literę.**

1. W Rzeczypospolitej Polskiej najważniejsze są przepisy prawne zapisane w \_\_\_\_\_.

Konstytucji RP	A
----------------	---

umowach międzynarodowych	B
--------------------------	---

2. Art. 10. ust.1 Konstytucji RP opisuje zasadę \_\_\_\_\_.

suwerenności narodu	C
---------------------	---

podziału władzy	D
-----------------	---

3. Władzę wykonawczą w Rzeczypospolitej Polskiej sprawują \_\_\_\_\_.

Sejm i Senat	E
--------------	---

Prezydent RP i Rada Ministrów	F
-------------------------------	---



### Zadanie 14.

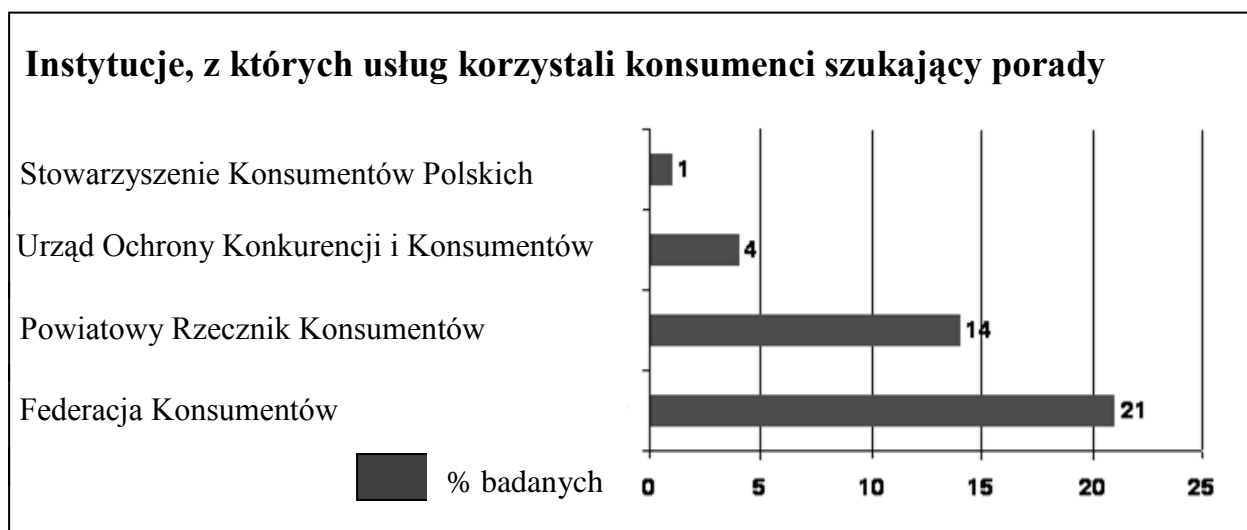
Oceń, czy poniższe zdanie jest informacją zawierającą tylko fakty, czy komentarzem będącym czyjąś opinią. Zaznacz literę A lub B.

*Coca-Cola produkowana jest zgodnie z oryginalną recepturą.*

fakt	A
------	---

opinia	B
--------	---

### Zapoznaj się z wykresem i wykonaj zadanie 15.



Na podstawie: Urząd Ochrony Konkurencji i Konsumentów, *Konsumentów portret własny – raport z badań*, Warszawa 2007.

### Zadanie 15.

**Zaznacz poprawną odpowiedź.**

Konsumenci najczęściej zwracali się o poradę do

- A. Federacji Konsumentów.
- B. Powiatowego Rzecznika Konsumentów.
- C. Stowarzyszenia Konsumentów Polskich.
- D. Urzędu Ochrony Konkurencji i Konsumentów.

**Przeczytaj tekst ustawy o związkach zawodowych i wykonaj zadanie 16.**

Art. 1.

1. Związek zawodowy jest dobrowolną i samorządną organizacją ludzi pracy, powołaną do reprezentowania i obrony ich praw, interesów zawodowych i socjalnych.
2. Związek zawodowy jest niezależny w swojej działalności statutowej od pracodawców, administracji państwowej i samorządu terytorialnego oraz od innych organizacji.
3. Organy państwowe, samorządu terytorialnego i pracodawcy obowiązani są traktować jednakowo wszystkie związki zawodowe.

**Zadanie 16.**

**Uzupełnij zdania wyrazami z ramek. Wpisz w każdą lukę odpowiednią literę.**

1. Jednym z zadań związków zawodowych jest obrona interesów \_\_\_\_.

pracodawców	A
-------------	---

pracowników	B
-------------	---

2. Przynależność pracownika do związku zawodowego jest jego \_\_\_\_.

prawem	C
--------	---

obowiązkiem	D
-------------	---

3. Zgodnie z prawem równe traktowanie związków zawodowych dotyczy \_\_\_\_.

wszystkich związków	E
---------------------	---

wybranych związków	F
--------------------	---

**Zadanie 17.**

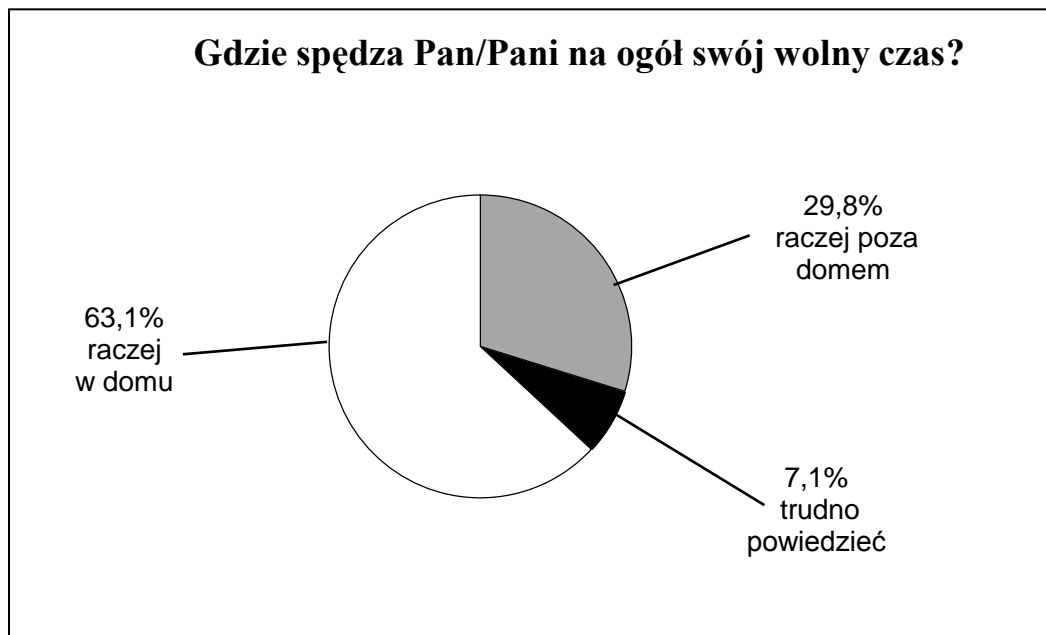
**Dokończ zdanie odpowiednim wyrażeniem z ramki. Wpisz literę A lub B.**

W poszukiwaniu ofert pracy przydatna jest umiejętność \_\_\_\_\_.

korzystania z gier komputerowych	A
----------------------------------	---

posługiwania się przeglądarką internetową	B
---	---

**Zapoznaj się z diagramem i wykonaj zadanie 18.**



Na podstawie: [www.rmfmfm](http://www.rmfmfm)

**Zadanie 18.**

**Dokończ zdanie odpowiednim wyrażeniem z ramki. Wpisz literę A lub B.**

Największa grupa badanych osób spędza swój wolny czas \_\_\_\_\_.

poza domem	A
------------	---

w domu	B
--------	---

Na podstawie ilustracji wykonaj zadanie 19.



**Zadanie 19.**

Przyporządkuj opisowi właściwą ilustrację. Wpisz do tabeli odpowiednio literę A lub B, lub C.

1.	Gospodarczo-polityczny związek państw europejskich, które prowadzą wspólną politykę handlową i rolną.	
2.	Organizacja polityczno-wojskowa. Podejmuje działania zapobiegające rozprzestrzenianiu się konfliktów regionalnych.	

### **Przeczytaj tekst i wykonaj zadanie 20.**

Podczas robienia zakupów pamiętaj, że bardzo ważne jest zachowanie paragonu. To paragon określa, kto i co sprzedał, kiedy i za jaką kwotę. Paragon stanowi dowód, że zawarłeś ze sprzedawcą umowę. To na podstawie paragonu będziesz mógł dochodzić swoich praw.

Towar jest niezgodny z umową, gdy np. jest niekompletny lub jest uszkodzony.

Na podstawie: *Młodzi konsumenci i rynek. Podręcznik dla uczniów szkół gimnazjalnych*,  
[www.konsumenckieabc.pl](http://www.konsumenckieabc.pl)

### **Zadanie 20.**

**Oceń, czy zdania są prawdziwe. Zaznacz TAK lub NIE.**

1.	Paragon jest podstawą do ewentualnej reklamacji zakupionego towaru.	TAK	NIE
2.	Towar, który został zniszczony przez długie i niewłaściwe użytkowanie można zwrócić do sklepu.	TAK	NIE

