

**Miejsce  
na naklejkę**

**MWO-P1\_7P-082**

**EGZAMIN MATURALNY  
Z WIEDZY  
O SPOŁECZEŃSTWIE**

**MAJ  
ROK 2008**


**dla osób niesłyszących**

**POZIOM PODSTAWOWY**

**Czas pracy 120 minut**

**Instrukcja dla zdającego**

1. Sprawdź, czy arkusz egzaminacyjny zawiera 16 stron (zadania 1 – 23). Ewentualny brak zgłoś przewodniczącemu zespołu nadzorującego egzamin.
2. Rozwiązania zadań zamieść w miejscu na to przeznaczonym.
3. Pisz czytelnie. Używaj długopisu/pióra tylko z czarnym tuszem/atramentem.
4. Nie używaj korektora, a błędne zapisy wyraźnie przekreśl.
5. Pamiętaj, że zapisy w brudnopisie nie podlegają ocenie.
6. Na karcie odpowiedzi wpisz swoją datę urodzenia i PESEL. Nie wpisuj żadnych znaków w części przeznaczonej dla egzaminatora.



Za rozwiązanie  
wszystkich zadań  
można otrzymać  
łącznie  
**100 punktów**

*Życzymy powodzenia!*

**Wypełnia zdający przed  
rozpoczęciem pracy**

--	--	--	--	--	--	--	--	--	--	--	--	--	--	--	--	--	--	--	--

**PESEL ZDAJĄCEGO**

--	--	--	--

**KOD  
ZDAJĄCEGO**

**W zadaniach 1 – 6 podkreśl poprawne odpowiedzi.**

**Zadanie 1. (1 pkt)**

**Funkcja ekonomiczna rodziny polega na**

- A. przygotowaniu dzieci do pełnienia ról społecznych.
- B. przekazywaniu dzieciom dziedzictwa kulturowego.
- C. nadawaniu jej członkom odpowiedniej pozycji społecznej.
- D. zaspokajaniu materialnych potrzeb\* jej członków.

\* *potrzeby materialne – np. jedzenie, ubranie*

**Zadanie 2. (1 pkt)**

**Członkowie Krajowej Rady Radiofonii i Telewizji są powoływani przez**

- A. Prezesa Rady Ministrów.
- B. Prezydenta RP.
- C. Sejm i Senat RP.
- D. Sejm, Senat i Prezydenta RP.

**Zadanie 3. (1 pkt)**

**Doktrynę polityczną mówiącą o zachowaniu takich wartości jak: tradycja, religia, naród, rodzina nazywamy**

- A. konserwatywną.
- B. liberalną.
- C. reakcyjną.
- D. rewolucyjną.

**Zadanie 4. (1 pkt)**

**„Każdy człowiek ma prawo do wolności myśli, sumienia i wyznania;”[...] Podany fragment Artykułu 18. Powszechnej Deklaracji Praw Człowieka świadczy o posiadaniu przez obywateli**

- A. praw ekonomicznych.
- B. praw politycznych.
- C. praw socjalnych.
- D. wolności osobistych.

**Zadanie 5. (1 pkt)**

**Bezpośrednim następstwem planu Roberta Schumana było utworzenie**

- A. Europejskiej Wspólnoty Energii Atomowej.
- B. Europejskiej Wspólnoty Gospodarczej.
- C. Europejskiej Wspólnoty Węgla i Stali.
- D. Rady Europejskiej.

**Zadanie 6. (1 pkt)**

Do aktów prawa miejscowego należy zaliczyć

- A. rozporządzenia ministrów.
- B. uchwały Rady Gminy.
- C. umowy międzynarodowe.
- D. ustawy.

**Zadanie 7. (6 pkt)**

Na podstawie fragmentu Konstytucji RP z 2 kwietnia 1997 roku i wiedzy własnej wykonaj polecenia.

*Art. 10*

*1. Ustrój Rzeczypospolitej Polskiej opiera się na podziale i równowadze władzy ustawodawczej, władzy wykonawczej i władzy sądowniczej.*

a) Napisz, jaka zasada ustrojowa charakterystyczna dla państwa demokratycznego została zawarta w artykule 10 Konstytucji RP.

.....

b) Wymień dwie cechy charakteryzujące tę zasadę.

- .....
- .....

c) Uzupełnij tabelę, wpisując nazwy odpowiednich organów państwa polskiego w zakresie wymienionych władz.

Rodzaje władzy	Nazwy organów władzy
Władza ustawodawcza	
Władza wykonawcza	
Władza sądownicza	

**Zadanie 8. (2 pkt)**

Wśród wymienionych poniżej organizacji międzynarodowych jedna jest organizacją pozarządową.

*Rada Europy, Organizacja Bezpieczeństwa i Współpracy Europejskiej,  
Amnesty International, Organizacja Narodów Zjednoczonych*

a) Wpisz nazwę tej organizacji.

.....

b) Podaj jeden cel działania tej organizacji.

.....

**Zadanie 9. (4 pkt)**

Wymień cztery państwa, które 1 maja 2004 roku wstąpiły do Unii Europejskiej.

- 1) ..... 2) .....
- 3) ..... 4) .....

**Zadanie 10. (6 pkt)**

Do określén: państwo demokratyczne i państwo totalitarne, dopisz właściwe litery A, B, C, D, E, F oznaczające cechy charakterystyczne tych państw.

- A. Udział obywateli w sprawowaniu władzy.
- B. Łamanie praw człowieka przez władzę.
- C. Kontrola władzy przez obywateli.
- D. Zakaz działania opozycji.
- E. Wprowadzenie cenzury.
- F. Przestrzeganie praw człowieka.

Państwo demokratyczne .....

Państwo totalitarne .....

W zadaniach 11 – 13 do odpowiednich liter A, B, C, D dopisz właściwe liczby 1, 2, 3, 4, 5.

**Zadanie 11. (4 pkt)**

Podanym w tabeli uprawnieniom organów władzy w Rzeczypospolitej Polskiej przyporządkuj właściwe nazwy tych organów.

Uprawnienia organów władzy	Organy władzy
A. Orzekanie o zgodności ustaw z konstytucją.	1. Trybunał Stanu
B. Mianowanie i odwoływanie ambasadorów.	2. Rada Ministrów
C. Uchwalanie zmian w konstytucji.	3. Prezydent Rzeczypospolitej Polskiej
D. Zapewnienie bezpieczeństwa wewnętrznego państwa.	4. Sejm i Senat
	5. Trybunał Konstytucyjny

A. .... B. .... C. .... D. ....

**Zadanie 12. (4 pkt)**

Dokonaj klasyfikacji podanych w tabeli grup społecznych.

Grupa społeczna	Typ grupy społecznej
A. Rodzina	1. Grupa nieformalna
B. Grupa przyjaciół	2. Grupa zamknięta
C. Komitet Wyborczy PO	3. Grupa celowa
D. Business Centre Club	4. Grupa pierwotna
	5. Grupa duża

A. .... B. .... C. .... D. ....

**Zadanie 13. (4 pkt)**

Podanym w tabeli dziedzinom prawa przyporządkuj odpowiednie opisy prawa.

Dziedzina prawa	Opis prawa
A. Prawo konstytucyjne	1. Zawiera przepisy określające m. in. prawa i obowiązki pracownika i pracodawcy.
B. Prawo administracyjne	2. Reguluje stosunki wynikające z małżeństwa i pokrewieństwa oraz dotyczące opieki nad dziećmi.
C. Prawo pracy	3. Obejmuje zakazy i nakazy pewnych zachowań oraz reguluje stosowanie przez państwo środków przymusu w razie ich nieprzestrzegania.
D. Prawo karne	4. Zawiera zasady ustroju politycznego i gospodarczego państwa. Określa sposób powoływania i kompetencje organów państwowych.
	5. Określa normy regulujące organizację i zadania administracji publicznej.

A. .... B. .... C. .... D. ....

**W zadaniach 14 – 16 zaznacz, które zdania są prawdziwe, a które fałszywe, wpisując w odpowiednie miejsce tabeli *Prawda* (zdanie prawdziwe) lub *Falsz* (zdanie fałszywe).**

**Zadanie 14. (4 pkt)**

Zdania	Prawda lub Falsz
A. Socjalizacja wtórna to proces zachodzący w okresie dzieciństwa polegający na uczeniu się przez naśladownictwo zasad postępowania.	
B. Jedną z funkcji rodziny polega na przygotowaniu dzieci do samodzielnego życia i pełnienia ról społecznych.	
C. Cechą charakterystyczną społeczeństwa postindustrialnego* jest duże znaczenie informacji i usług.	
D. Struktura społeczna to zbiór różnorodnych elementów, z których składa się społeczeństwo oraz procesów zachodzących między tymi elementami.	

\* *postindustrialne* – *poprzemysłowe*

**Zadanie 15. (4 pkt)**

Zdania	Prawda lub Falsz
A. Jednym z poglądów na temat powstania państwa jest teoria podboju i przemocy autorstwa Fryderyka Engelsa.	
B. Terytorium państwa obejmuje obszar lądowy, wody przybrzeżne, przestrzeń powietrzną.	
C. Jednym z zadań funkcji wewnętrznej realizowanej przez państwo jest zapewnienie bezpieczeństwa obywatelom.	
D. Obywatelstwo oznacza przynależność osoby do danego państwa.	

**Zadanie 16. (4 pkt)**

Zdania	Prawda lub Falsz
A. Podstawą prawną działania ONZ jest Karta Narodów Zjednoczonych podpisana w 1945 roku w San Francisco.	
B. Grupa Wyszehradzka jest organizacją skupiającą: Polskę, Czechy, Słowację, Węgry.	
C. Jednym z głównych celów polskiej polityki zagranicznej po 1989 roku była współpraca z państwami Układu Warszawskiego.	
D. Państwa słabo rozwinięte należą do Organizacji Współpracy Gospodarczej i Rozwoju (OECD).	

**Zadanie 17. (6 pkt)**

Uzupełnij zdania.

Podstawową jednostką samorządu terytorialnego jest (1) .....  
Wyróżnia się dwa rodzaje powiatów: ziemski i (2) ..... Na czele zarządu powiatu stoi (3) ..... Jednoosobowym organem wykonawczym w miastach liczących powyżej 100 tysięcy mieszkańców jest (4) ..... Organem stanowiącym\* i kontrolnym w powiecie jest (5) ..... Nadzór\* nad przestrzeganiem prawa przez władze samorządowe sprawuje (6) .....

\* *stanowiący – uchwalający*

\* *nadzór – kontrola*

**Zadanie 18. (2 pkt)**

Wymień dwa negatywne skutki, jakie dla człowieka może mieć utrata pracy.

- .....
- .....

**Zadanie 19. (4 pkt)**

Określ, które z poniższych zdań podają tylko fakty, a które zawierają tylko opinie. Wpisz w odpowiednie miejsce tabeli *Fakt* lub *Opinia*.

Lp.	Zdania	Fakt lub Opinia
1.	Po wejściu do Unii Europejskiej polskie firmy mogą korzystać z funduszy strukturalnych.	
2.	Mniejsze firmy mogą łatwiej skorzystać z unijnych funduszy.	
3.	Urzednicy zdecydowali się na takie rozwiązanie, ponieważ tylko w ten sposób skutecznie zapewnią odpowiednie wydawanie unijnych pieniędzy.	
4.	Zwrot kosztów poniesionych przez firmy został w Polsce ograniczony do 20 mln zł.	

Źródło: na podstawie, *Urzednik kontra przedsiębiorca*, Rzeczpospolita 27.04.2005

**Zadanie 20. (9 pkt)**

Na podstawie wybranych fragmentów Kodeksu rodzinnego i opiekuńczego wykonaj polecenia.

**Kodeks rodzinny i opiekuńczy**

*Art. 95. § 1. Władza rodzicielska obejmuje w szczególności obowiązek i prawo rodziców do wykonywania pieczy\* nad osobą i majątkiem dziecka oraz do wychowania dziecka.*

*§ 2. Dziecko pozostające pod opieką rodzicielską winno rodzicom posłuszeństwo.*

*§ 3. Władza rodzicielska powinna być wykonywana tak, jak tego wymaga dobro dziecka i interes społeczny.*

*Art. 96. Rodzice wychowują dziecko pozostające pod ich władzą rodzicielską i kierują nim. Obowiązani są troszczyć się o fizyczny i duchowy rozwój dziecka i przygotować je należycie do pracy dla dobra społeczeństwa odpowiednio do jego uzdolnień.*

*Art. 100. Sąd opiekuńczy i inne organy państwowe obowiązane są udzielać pomocy rodzicom, jeżeli jest ona potrzebna do należytego wykonywania władzy rodzicielskiej; (...)*

*Art. 111. § 1. Jeżeli władza rodzicielska nie może być wykonywana z powodu trwałej przeszkody albo jeżeli rodzice nadużywają władzy rodzicielskiej lub w sposób rażący\*\* zaniedbują swe obowiązki względem dziecka, sąd opiekuńczy pozbawi rodziców władzy rodzicielskiej. Pozbawienie władzy rodzicielskiej może być orzeczone\*\*\* także w stosunku do jednego z rodziców.*

*Art. 113. § 1. Jeżeli wymaga tego dobro dziecka, sąd opiekuńczy zakazuje rodzicom pozbawionym władzy rodzicielskiej osobistej styczności\*\*\*\* z dzieckiem.*

*§ 2. W wyjątkowych wypadkach sąd opiekuńczy może ograniczyć osobistą styczność z dzieckiem rodziców, których władza rodzicielska została ograniczona, przez umieszczenie dziecka w rodzinie zastępczej lub w placówce opiekuńczo-wychowawczej.*

Źródło: www.bap-psp.lex.pl

\*piecza – opieka, \*\* rażący – widoczny, \*\*\* orzec – zdecydować, \*\*\*\* styczność – kontakt

**a) Wymień trzy obowiązki wynikające z posiadania przez rodziców władzy rodzicielskiej.**

- .....
- .....
- .....

**b) Napisz, jaki organ powinien udzielać rodzicom pomocy potrzebnej do wykonywania przez nich władzy rodzicielskiej.**

.....

**c) Podaj trzy przyczyny pozbawienia rodziców władzy rodzicielskiej.**

- .....
- .....
- .....

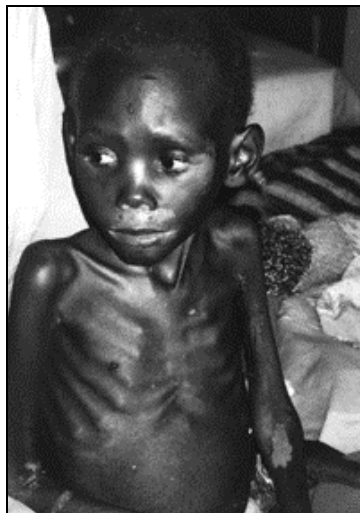

**d) Wyjaśnij, jak sąd może ograniczyć osobisty kontakt rodziców z dzieckiem.**

.....  
.....



**Zadanie 21. (10 pkt)**

Na podstawie zamieszczonych poniżej ilustracji oraz wiedzy własnej wykonaj polecenia.



Źródło: [www.maitri.pl](http://www.maitri.pl)

a) Na ilustracjach przedstawiono jeden z problemów współczesnego świata. Nazwij ten problem.

.....

b) Podkreśl nazwy trzech państw, w których występuje problem przedstawiony na ilustracjach.

1. Albania
2. Bangladesz
3. Etiopia
4. Słowenia
5. Sudan
6. Republika Południowej Afryki

c) Wymień trzy przyczyny występowania tego problemu.

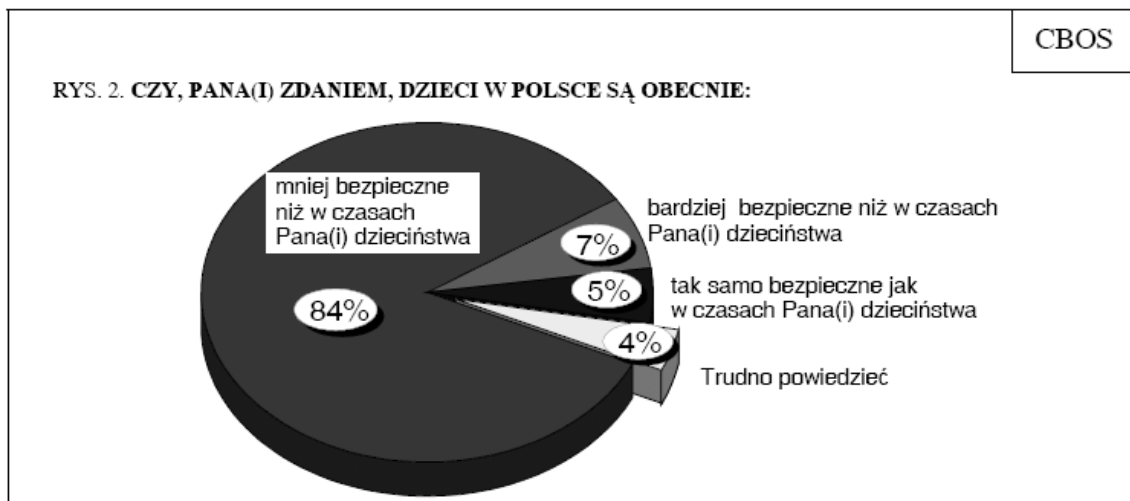
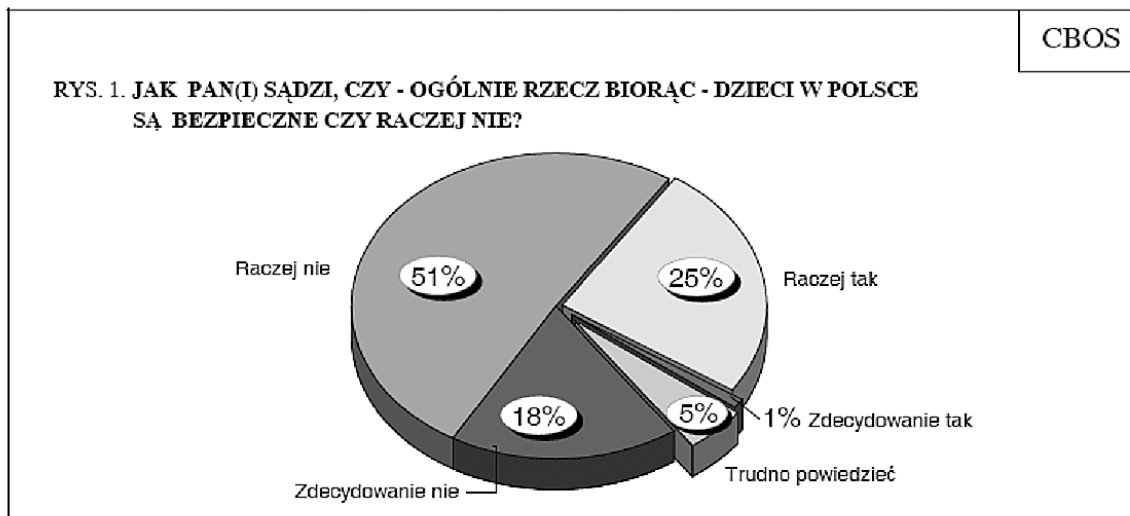
- .....
- .....
- .....

d) Podaj trzy przykłady pomocy, jakiej można udzielić państwom, w których występuje problem przedstawiony na ilustracjach.

- .....
- .....
- .....

**Zadanie 22. (9 pkt)**

Na podstawie zamieszczonych rysunków i tabeli oraz wiedzy własnej wykonaj polecenia.

Źródło: na podstawie badań CBOS, *Polacy o bezpieczeństwie dzieci*, czerwiec 2003r., www.cbos.pl

a) Na podstawie rysunku 1. napisz, jaka jest najczęstsza opinia na temat bezpieczeństwa dzieci w Polsce.

.....  
.....

b) Na podstawie rysunku 2. odpowiedz, czy według ankietowanych bezpieczeństwo dzieci zmniejszyło się, czy zwiększyło. Odpowiedź uzasadnij, posługując się liczbami z wykresu.

Odpowiedź: .....

.....  
.....

Uzasadnienie: .....

.....

**Tabela**

Miejsce zamieszkania respondentów	Jak Pan(i) sądzi, czy w Pana(i) miejscowości dzieci są na ogół bezpieczne, czy raczej nie?		
	Tak	Nie	Trudno powiedzieć
	w procentach		
Wieś	83	15	2
Miasto do 20 tys. ludności	78	19	3
Miasto od 21 tys. do 100 tys.	58	37	5
Miasto od 101 tys. do 500 tys.	43	51	6
Miasto powyżej 500 tys.	34	59	3

Źródło: na podstawie badań CBOS, *Polacy o bezpieczeństwie dzieci*, czerwiec 2003r., www.cbos.pl

- c) Na podstawie tabeli odpowiedz, co wpływa na opinie ankietowanych na temat bezpieczeństwa dzieci. Uzasadnij odpowiedź wykorzystując dane liczbowe z tabeli.

**Odpowiedź:** .....

.....

**Uzasadnienie:** .....

.....

.....

.....

- d) Podaj po dwa przykłady działań, mających na celu zwiększenie bezpieczeństwa dzieci, podejmowanych przez rodziców i szkołę.

**Działania podejmowane przez rodziców:**

▪ .....

.....

▪ .....

.....

**Działania podejmowane przez szkołę:**

▪ .....

.....

▪ .....

.....









## **BRUDNOPIS**